

- نهب ثروات البلاد والتحكم بمقدراتها.
- انتشار الرشوة والفساد .
- تراجع الوضع المعيشي.
- إثارة الفتن والنعرات الطائفية .
- التدخل بشؤون لبنان.
- التحالف مع القوى المعادية للعرب.
- ارتكب المجازر بحق الفلسطينيين والسوريين (حماة – تدمر- تل الزعتر).
- تحويل الجيش من الدفاع عن البلاد إلى الدفاع عن حكمه.

يكتفى بثلاث إجابات

السؤال الثالث: أجب عن الأسئلة الآتية: ٨٠ (الأول ٣٠ د. الثاني ٢٠ د. الثالث ٣٠ د)
١- صنف في جدول سياسة فرنسا في لبنان من الناحية السياسية والاقتصادية؟

الاقتصادية	السياسية
إنشاء مصرف مشترك.	- ضرب الوحدة الوطنية من خلال تعميق الطائفية
إصدار عملة باسم دولة لبنان الكبير	الإبقاء على مجلس إدارة لبنان التي وزعت على أساس طائفي.
	تعيين حاكم إداري فرنسي .

يكتفى بثلاث إجابات للمجالين

- ٢- ماذا نستنتج من تصدي وزير الحربية يوسف العظمة والشعب السوري للاحتلال الفرنسي في ميسلون؟
- رفض الشعب السوري للاحتلال الفرنسي.
- عدم دخول فرنسا دمشق دون قتال مشرف.

٣- قارن في جدول بين بنود معاهدة ١٩٣٦ م بين سورية وفرنسا ولبنان وفرنسا عام ١٩٣٦ م؟

سورية وفرنسا	لبنان وفرنسا
استقلال سورية التام.	وضع القوات الفرنسية في لبنان بإمرة الحكومة اللبنانية
مسؤولية سورية عن حفظ النظام	تشكيل فرقة لبنانية فرنسية مشتركة
تقدم سورية تسهيلات وطرق مواصلات لفرنسا	تقدم لبنان تسهيلات بالمواصلات والموانئ
مدة المعاهدة ٢٥ عاماً	جعل لبنان تحت تصرف القوات الفرنسية دون تحديد المكان والزمان
تتشاور الدولتان في الشؤون الخارجية	-----
مدة المعاهدة ٢٥ عاماً	لم يتم تحديد مدة للمعاهدة

يكتفى بإجابتين لكل معاهدة

السؤال الرابع: من خلال دراستك لبحث: (الاحتلال الفرنسي لسورية) أجب عن الأسئلة الآتية:
٦٠ د(لكل سؤال ٢٠ د)

١- اسباب تجزئة الاحتلال الفرنسي سورية إلى عدة دويلات؟

- إضعاف الاتجاهات الوحدوية من مبدأ(فرق تسد).
- السيطرة على البلاد.
- إضعاف المقاومة والثورات.
- تعزيز النزعات الطائفية.

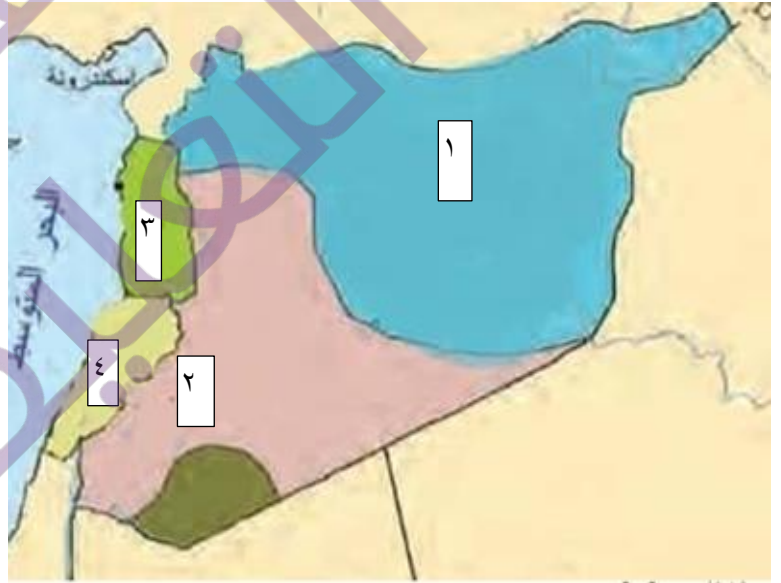
يكتفى بإجابتين ولكل إجابة ١٠ درجات

٢- ما هي نتائج الثورات السورية؟

- قبول الفرنسيين التفاوض مع الوطنيين ، على أسس منها(إجراء انتخابات لتشكيل جمعية تأسيسية تضع دستور للبلاد .
- مقتل أكثر من (١٥) ألف من الفرنسيين مقابل استشهاد(١٠) الأف من المجاهدين.
- ازدياد الوعي الوطني.
- إثارة الرأي العالمي ضد فرنسا وخاصةً في الداخل الفرنسي.
- تعيين مندوبين مدنيين بدل العسكريين.

يكتفى بإجابتين ولكل إجابة ١٠ درجات

٣ - انقل الأرقام الواردة في الخريطة المجاورة أو في الشكل المجاور إلى ورقة إجابتك واكتب ما يشير أو ما يرمز إليه كل رقم.



١-دولة حلب ٢-دولة دمشق ٣- دولة جبال اللاذقية ٤ دولة لبنان الكبير

لكل إجابة صحيحة ٥ د

انتهى السلم

جامعة الملك سعود
الرياض



سلم تصحيح اختبار الوحدة الأولى ثانوي

السؤال الأول : أجب عن الأسئلة الآتية :

١- اختر الإجابة الصحيحة : لكل سؤال (٥ درجات)

أ- طالب فيصل بن الحسين بمؤتمر الصلح:

- **حق العرب في الاستقلال والوحدة**

- قبول المعونة البريطانية

- وحدة سورية والعراق الاقتصادية

- إعطاء لبنان الحكم الذاتي ضمن الوحدة السورية

ب- تم افتتاح قناة السويس عام (١٨٦٩م) من قبل:

- بريطانية - المانيا - إيطاليا - **فرنسا**

ج- النظام الاستعماري الذي طُبق على ليبيا بعد الحرب العالمية الثانية:

- الحماية - **الوصاية** - الانتداب - الأحلاف العسكرية

د- ابتدع نظام الانتداب في:

- اتفاقية سايكس بيكو - مؤتمر سان ريمو - **مؤتمر الصلح** - مؤتمر برلين

٢- ضع كلمة صح أمام العبارة الصحيحة وكلمة غلط أمام العبارة المغلوطة: لكل سؤال (٥ درجات)

أ- المعسكر الغربي الرأسمالي أسس الحلف الأطلسي (الناطو) عام ١٩٤٩. **صحيح**

ب- سياسة الحكم البريطاني للمستعمرات تميزت بحكمها المركزي. **خطأ**

ج- شكل افتتاح قناة السويس على يد العثمانيين خطراً على طريق تجارة الهند البريطانية. خطأ

د- أطماع روسيا في الوطن العربي تمثلت بإقامة قواعد لأساطيلها. صحيح

٣- رتب الأحداث التاريخية الآتية حسب تسلسلها الزمني بدءاً بالأقدم: لكل ترتيب صحيح أساس صحيح (٥ درجات)

أ- الحرب العالمية الثانية ب- مؤتمر برلين ج- سان ريمو د- تأسيس هيئة الأمم المتحدة

مؤتمر برلين سان ريمو الحرب العالمية الثانية تأسيس هيئة الأمم المتحدة

٤- علل اثنين فقط مما يأتي: (٤٠ درجة) لكل تعليل صحيح (٢٠ درجة)

١- ظهور الأحلاف العسكرية؟

- انقسام العالم إلى معسكرين شرقي اشتراكي بقيادة الاتحاد السوفياتي، وغربي رأسمالي بقيادة الولايات المتحدة الأمريكية .

- رغبة الدول الاستعمارية تشديد قبضتها على الشعوب واستنزاف خيراتها.

- انتشار حركات التحرر الوطنية .

يكتفى بإجابتيين

٢- الخلاف بين حكومة فيصل في دمشق وفرنسا ١٩٢٠؟

- الخلاف حول تأسيس بنك سورية ولبنان الفرنسي.

- رفض الحكومة العربية في دمشق التعامل بالعملة الورقية الفرنسية.

- رفض الحكومة العربية مرور القوات الفرنسية عن طريق سورية إلى الشمال لمحاربة الجيش التركي.

- تطبيق الانتداب الفرنسي على سورية في مؤتمر سان ريمو.

يكتفى بإجابتيين

٣- سيطرة بريطانيا على قبرص؟

٤- حماية قناة السويس.

٥- حماية طريق الهند.

السؤال الثاني : : أجب عن سؤالين اثنين مما يأتي: ٦٠ درجة لكل سؤال (٣٠ درجة)

١- أذكر أهم الأحلاف الاستعمارية في المنطقة العربية؟

- مشروع سورية الكبرى.

- مشروع الهلال الخصيب.

- مشروع النقطة الرابعة.
- مبدأ أيزنهاور (ملء الفراغ في الشرق الأوسط)
- يكتفى بثلاث إجابات
- ٢- مقررات مؤتمر الصلح ١٩١٩م؟
- فصل البلاد العربية في آسيا عن تركيا.
- إرسال لجنة اقتصرت على الامريكيين (هنري كينغ- تشارلز كراين) .

- ٣- توصيات لجنة كينغ كراين ؟
- تكوين اتحاد من لبنان وسورية وشرقي الاردن.
- تنصيب فيصل ملكاً عليه.
- رفض الانتداب.
- قبول الوصاية الامريكية على هذا الاتحاد.
- حذرت من قيام دولة يهودية وطالبت الحد من هجرة اليهود لفلسطين.

يكتفى بثلاث إجابات

السؤال الثالث: أجب عن الأسئلة الآتية: الأول ٣٠ درجة والثاني ٢٠ درجة والثالث ٣٠ درجة
١ - صنف في جدول الأطماع الفرنسية والألمانية في الوطن العربي .

الأطماع الألمانية	الأطماع الفرنسية
- السيطرة على الأسواق لتصريف منتجاتها.	تعزير نفوذها في الخليج العربي من خلال الحصول على محطة فحم في عمان
الحصول على إعفاءات جمركية من الدولة العثمانية	تثبيت وجودها في بلاد الشام

يكتفى بثلاث إجابات

- ٢- ماذا نستنتج من عقد المؤتمر السوري العام ١٩١٩م؟ يكتفى بإجابتين
- أول صيغة تشريعية عرفتها البلاد في العصر الحديث.
- التأكيد على رفض كل اشكال الاستعمار.
- التأكيد على الحرية والاستقلال.
- الوعي الوطني والقومي.
- يكتفى بإجابتين
- ٣- اوجه الشبه بين مقررات المؤتمر السوري العام ١٩١٩م والمؤتمر السوري العام ١٩٢٠م.
- كلاهما أكد على استقلال سورية
- كلاهما اكد على استقلال والعراق.
- كلاهما طالب بحكم ملكي دستوري ومبايعة فيصل ملكاً على سورية.
- كلاهما ندد بالاتفاقيات الاستعمارية .

يكتفى بثلاث إجابات ولكل إجابة عشر درجات

السؤال الرابع: من خلال دراستك للأطماع الاستعمارية في الوطن العربي اجب عن الأسئلة الآتية ؟

٦٠ درجة ولكل سؤال ٢٠ درجة

- ١- أسباب الأطماع الاستعمارية في الوطن العربي ؟
- الموقع الاستراتيجي كونه يمثل نقطة التقاء الشرق الآسيوي بالغرب الأوربي.

- إشرافه على مضائق بحرية مهمة على طريق الهند أو طرق التجارة.
- شق قناة السويس.

يكتفى بإجابتين

- ٢- رفض بريطانيا وفرنسا مشاركة فيصل ممثلاً للعرب في مؤتمر الصلح؟
- خوفاً على مصالحهما الاستعمارية
- تهدد مناطق نفوذهم وتأمروهم على المنطقة .

يكتفى بإجابة

- ٣- انقل الأرقام الواردة في الخريطة المجاورة أو في الشكل المجاور إلى ورقة إجابتك واكتب ما يشير إليه الرقم؟



- ١- فرنسا : المنطقة الزرقاء وتشمل غرب سورية
- ٢- بريطانيا : المنطقة الحمراء وتشمل وسط وجنوب العراق (بغداد- البصرة)
- ٣- المنطقة العربية : وتشمل المنطقة المحصورة بين مناطق النفوذ البريطاني الفرنسي
- ٤- إدارة دولية : المنطقة السمرراء وتشمل فلسطين.

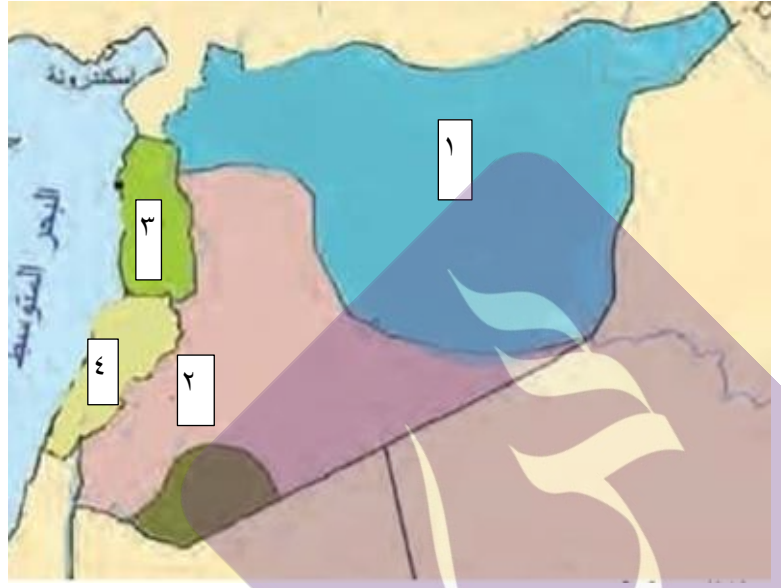
لكل إجابة صحيحة ٥ درجات

انتهى السلم

اختبار الوحدة الثانية ثانوي

السؤال الأول: أجب عن الأسئلة الآتية: ١٠٠ درجة (الأول ٢٠، الثاني ٢٠، الثالث: ٢٠، الرابع: ٤٠ د)

- ١- اختر الإجابة الصحيحة وانقلها إلى ورقة إجابتك:
 - أ- تمركز الجيش الفرنسي في موقع ميسلون عام ١٩٢٠ م :-
 - ١- ارتباطها بالسكك الحديدية ٢- منطقة جبلية ٣- تجنب المقاومة ٤- للسيطرة على الساحل السوري
 - ب- تسلم رئاسة سورية بعد الانفصال عام ١٩٦١ م :
 - ١- حسني الزعيم ٢- ناظم القدسي ٣- هاشم الأتاسي ٤- اديب الشيشكلي
 - ج- قامت ثورة حوران عام ١٩٢٠ م في منطقة:
 - ١- الكفر ٢- المسيفرة ٣- خربة غزالة ٤- المليحة
 - د- كلف هاشم الأتاسي عام ١٩٣٦ م برئاسة الحكومة للتصديق على المعاهدة مع فرنسا :
 - ١- مأمون الكزبري ٢- عبد الرحمن الشهبندر ٣- جميل مردم بك ٤- سعد الله الجابري
 - ٢- أنقل العبارات الآتية وضع كلمة صح أمام العبارة الصحيحة وكلمة غلط أمام العبارة المغلوطة:
 - أ- أنشأ دولة لبنان الكبير عام ١٩٢٠ م الجنرال بونسو ؟
 - ب- حدثت الحرب الأهلية اللبنانية الأولى عام ١٩٥٨ م في عهد الرئيس كميل شمعون؟
 - ج- من بنود وثيقة الاستقلال التي طرحتها حكومة رياض الصلح في لبنان عام ١٩٤٣ م توقيع معاهدة دفاعية مع فرنسا؟
 - د- تمّ انتخاب أول رئيس لسورية عام ١٩٣٢ م سامي الحناوي ؟
 - ٣- رتبّ الأحداث التاريخية الآتية حسب تسلسلها الزمني بدءاً بالأقدم:
 - ١- استقلال لبنان ٢- الحرب الأهلية الثانية ٣ - العيد الوطني في لبنان ٤- اتفاق الطائف
 - ٤- علّل اثنين فقط ممّا يأتي.
 - ١- احتياح الكيان الصهيوني لبنان عام ١٩٨٢ م ؟
 - ٢- إنزال الولايات المتحدة قواتها في لبنان تحت مسمى عملية الطواط الأزرق اثناء الحرب الأهلية؟
 - ج- رفض فرنسا المصادقة على معاهدة عام ١٩٣٦ م مع لبنان ؟
- ٦٠ (لكل سؤال ٣٠ د)
- السؤال الثاني: أجب عن سؤالين مما يأتي
- ١- عدد أسباب قيام الحرب الأهلية الأولى في لبنان عام ١٩٥٨ م ؟
 - ٢- تحدث عن أعمال النظام السوري البائد بعد دخول لبنان عام ١٩٧٦ م؟
 - ٣- نتائج انقلاب ١٩٧٠ م في سورية؟
- السؤال الثالث: أجب عن الأسئلة الآتية: ٨٠ (الأول ٣٠، الثاني ٢٠، الثالث ٣٠ د)
- ١- صنف في جدول سياسة فرنسا في لبنان من الناحية السياسية والاقتصادية ؟
 - ٢- ماذا نستنتج من تصدي وزير الحربية يوسف العظمة والشعب السوري للاحتلال الفرنسي في ميسلون؟
 - ٣- قارن في جدول بين بنود معاهدة ١٩٣٦ م بين سورية وفرنسا ولبنان وفرنسا عام ١٩٣٦ م؟
- السؤال الرابع: من خلال دراستك لبحث: (الاحتلال الفرنسي لسورية) أجب عن الأسئلة الآتية:
٦٠ (لكل سؤال ٢٠ د)
- ١- اسباب تجزئة الاحتلال الفرنسي سورية إلى عدة دويلات
 - ٢- ما هي نتائج الثورات السورية؟
 - ٣ - انقل الأرقام الواردة في الخريطة المجاورة أو في الشكل المجاور إلى ورقة إجابتك واكتب ما يشير أو ما يرمز إليه كل رقم.



انتهت الأسئلة

جامعة القاهرة
الكلية الهندسية

اختبار الوحدة الأولى ثانوي

السؤال الأول : أجب عن الأسئلة الآتية : ١٠٠ درجة (الأول ٢٠، الثاني ٢٠، الثالث : ٢٠، الرابع ٤٠ د)

١- اختر الإجابة الصحيحة :

أ- طالب فيصل بن الحسين بمؤتمر الصلح:

- حق العرب في الاستقلال والوحدة

- قبول المعونة البريطانية

- وحدة سورية والعراق الاقتصادية

- إعطاء لبنان الحكم الذاتي ضمن الوحدة السورية

ب- تم افتتاح قناة السويس عام (١٨٦٩م) من قبل:

- بريطانية - ألمانيا - إيطاليا - فرنسا

ج- النظام الاستعماري الذي طبق على ليبيا بعد الحرب العالمية الثانية:

- الحماية - الوصاية - الانتداب - الأحلاف العسكرية

د- ابتدع نظام الانتداب في:

- اتفاقية سايكس بيكو - مؤتمر سان ريمو - مؤتمر الصلح - مؤتمر برلين

٢- ضع كلمة صح أمام العبارة الصحيحة وكلمة غلط أمام العبارة المغلوطة:

أ- المعسكر الغربي الرأسمالي أسس الحلف الأطلسي(الناتو) عام ١٩٤٩.

ب- سياسة الحكم البريطاني للمستعمرات تميزت بحكمها المركزي.

ج - شكل افتتاح قناة السويس على يد العثمانيين خطراً على طريق تجارة الهند البريطانية.

د- أطماع روسيا في الوطن العربي تمثلت بإقامة قواعد لأساطيلها.

٣- رتب الأحداث التاريخية الآتية حسب تسلسلها الزمني بدءاً بالأقدم:

أ- مؤتمر برلين ب- الحرب العالمية الثانية ج- سان ريمو د- تأسيس هيئة الأمم المتحدة

٤- عتل اثنين فقط مما يأتي:

١- ظهور الاحلاف العسكرية؟

٢- الخلاف بين حكومة فيصل في دمشق وفرنسا ١٩٢٠؟

٣- سيطرة بريطانيا على قبرص؟

٦٠ د (لكل سؤال ٣٠ د)

السؤال الثاني : : أجب عن سؤالين اثنين مما يأتي:

١- أذكر أهم الأحلاف الاستعمارية في المنطقة العربية؟

٢- مقررات مؤتمر الصلح ١٩١٩م؟

٣- توصيات لجنة كينغ كراين ؟

٨٠ (الأول ٣٠ د. الثاني ٢٠ د. الثالث ٣٠ د)

السؤال الثالث : أجب عن الأسئلة الآتية:

١ - صنف في جدول الأطماع الفرنسية والألمانية في الوطن العربي .

٢ - ماذا نستنتج من عقد المؤتمر السوري العام ١٩١٩ م .

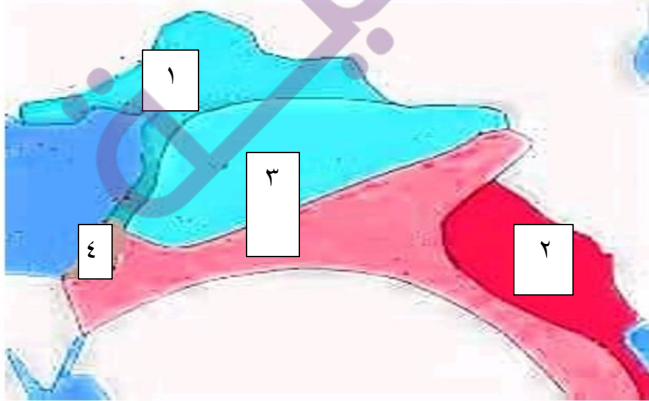
٣- اوجه الشبه بين مقررات المؤتمر السوري العام ١٩١٩ والمؤتمر السوري العام ١٩٢٠ م.

السؤال الرابع : من خلال دراستك للأطماع الاستعمارية في الوطن العربي اجب عن الأسئلة الآتية ؟ ٦٠ د (لكل سؤال ٢٠ د)

١- أسباب الأطماع الاستعمارية في الوطن العربي ؟

٢- رفض بريطانيا وفرنسا مشاركة فيصل ممثلاً للعرب في مؤتمر الصلح؟

٣- انقل الأرقام الواردة في الخريطة المجاورة أو في الشكل المجاور إلى ورقة إجابتك واكتب ما يشير إليه الرقم؟



جامعة الملك سعود
الرياض

